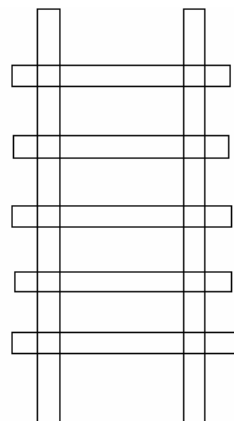
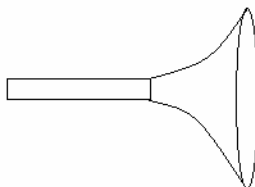
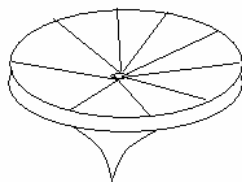


**CHAPTER-5<sup>TH</sup>**

Ques.1 Name the view of the following:-

चित्र को देखकर निम्नलिखित दृश्यों को बताइए।



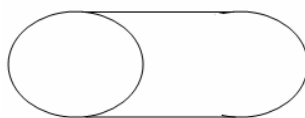
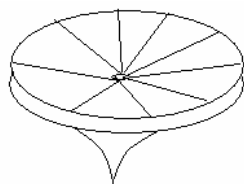
A. \_\_\_\_\_

B. \_\_\_\_\_

C. \_\_\_\_\_

Ques.2 Draw lines to match the side view and the top view of a pipe and a funnel.

चित्र में रेखा बनाइए जो 'एक और दृश्य' तथा 'ऊपर के दृश्य' को दर्शाए।



Ques.3 Draw picture of a shoe from the top.

ऊपर से देखते हुए जूते का चित्र बनाइए।

Ques.4 Draw a picture of a shoe from the side.

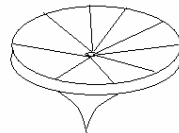
‘एक तरफ’ से देखते हुए जूते का चित्र बनाइए।

Ques.5 Draw a picture of a shoe from the front.

‘सामने की तरफ’ से देखते हुए जूते का चित्र बनाए।

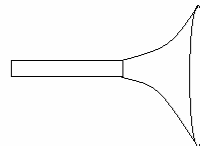
Ques.6 Match the correct view.

सही दृश्य को मिलाएँ।

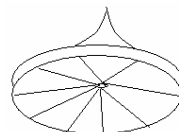


1. Front  
सामने

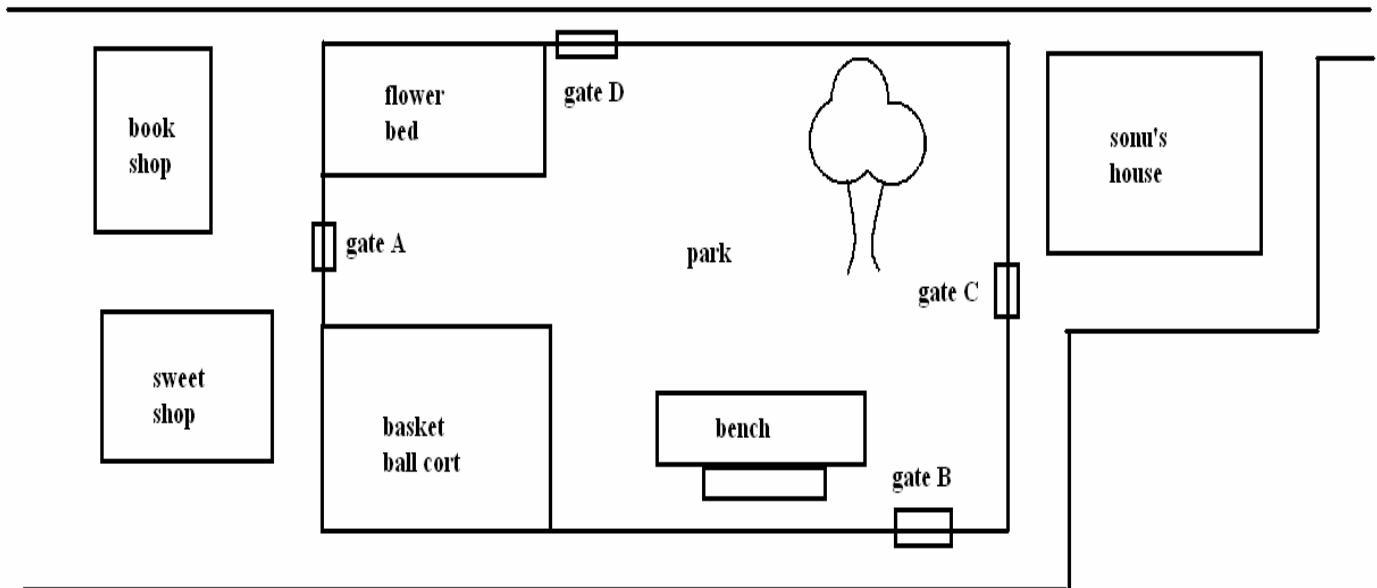
2. Top  
ऊपर



3. Side  
तरफ



Ques. Look at the picture carefully and answer the questions  
ध्यान से देखकर उत्तर दें।



Ques.7 Which gate is nearest to the sweet shop?  
कौन सा गेट मिठाई की दुकान के नजदीक है?  
A,B,C,D.

Ques.8 Which gate is nearest to Gappu's house?  
कौन सा गेट गप्पू के घर के सबसे पास है?  
A,B,C,D.

Ques.9 If you enter from gate 'B' the correct will be to your.  
यदि तुम दरवाजे B से अन्दर जाते हो तो बेंच तुम्हारे किस तरफ होगी?  
1. Left बाँये 2. Right दाँये 3. Front. सामने

Ques.10 When suhasini entered the park, the flower bed was to her right. Which gate did she enter from?

जब सुहासिनी पार्क में जाती है तो फूलों का बिस्तर उसके दाँयी तरफ है। वह किस गेट से अंदर गयी थी?

Ques.11 Which of these is nearest to you if you enter from gate 'D'?

यदि तुम गेट D से पार्क में जाते हो तो इनमें से क्या तुम्हारे सबसे नजदीक होगा?

1. Basket Ball Court.

बास्केट बॉल कोर्ट

2. Flower Bed.

फूलों का बिस्तर

2. Bench

बेंच

Ques.12 If you entered through gate D, What will be on right of you?

यदि तुम गेट D से अन्दर जाते हो तो पार्क में तुम्हारी दाँयी तरफ क्या होगा?

Ques.13 If you enter through gate 'A' , what will be on left of you?

यदि तुम गेट A से अन्दर जाते हो तो तुम्हारी बाँयी तरफ क्या होगा?

Ques.14 If you exit from gate 'B' and take a right turn and go straight. Then which shop is at your right?

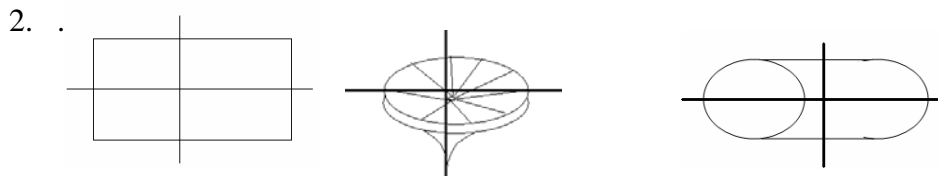
यदि तुम गेट B से बाहर निकलते हो तथा दाँयी तरफ मुड़कर सीधा चलते हो, तो तुम्हारी दाँयी तरफ कौन सी दुकान होगी?

Ques.15 When you exit from gate 'A' which shop is in front of you?

जब तुम पार्क से गेट A से बाहर निकलते हो तो तुम्हारे सामने कौन सी दुकान होगी?

**ANSWER KEY**

1. .  
a. Top. ऊपर  
b. Side. तरफ  
c. Top. ऊपर



6. .  
a. C.  
b. A.  
c. B.

7. Gate A  
गेट A

8. Gate C  
गेट C

9. Left.  
बाँयी

10. Gate D.  
गेट D

11. Flower bed.  
फूलों का बिस्तर

12. Trees.  
पेड़

13. Flower bed.  
फूलों का बिस्तर

14. Sweet shop.  
मिठाई की दुकान

15. Book Shop  
किताबों की दुकान