

WORKSHEET

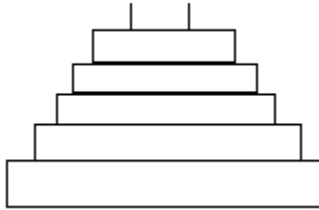
CLASS-III

CHAPTER-1ST

Where to look from

Ques.1 Look at the picture and tell which view of staircase is this?

चित्र देखकर बताओ यह सीढ़ियों का कौन सा आयाम है?

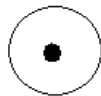


(a) Top View
उपरी भाग

(b) Front View
सामने भाग

(c) Side view.
बाजू वाला भाग

Ques.2



can be the top of a _____.

दिया हुआ ऊपरी आयाम निम्न में से किसका हो सकता है?

Car
कार

Bed
बैड

pencil
पेन्सिल

Ques.3



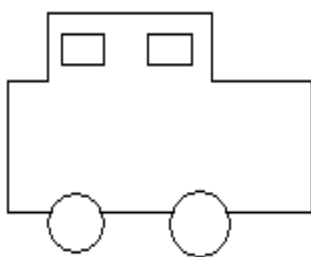
Use the dotted lines to divide the given figures into two similar halves.
दी गई आकृतियों को रेखाओं द्वारा एक जैसे भागों में बाँटो।

Ques.4 Guess the English alphabet from their halves.

चित्र का आधा भाग देखकर अंग्रेजी वर्णमाला अक्षर का अनुमान लगाओ।



Ques.5 Which view is this picture showing?
दिया गया चित्र कौन सा आयाम दिखा रहा है।



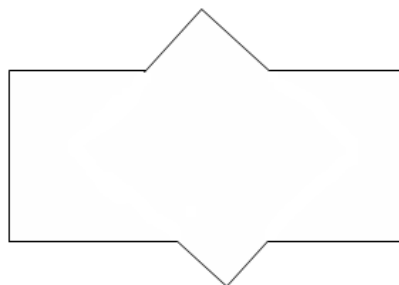
- (a) Top View. उपरी भाग
- (b) Front View. सामने वाला भाग
- (c) Side View. बाजू वाला भाग

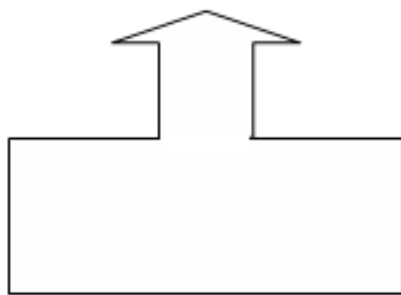
Ques.6 Complete the pattern:-
पैटर्न पूरा करो।

Ques.7 are identical halves necessarily mirror halves? (Take the hind from the given Figure)

क्या यह जरूरी है कि किसी आकृति के दो आधे हिस्से सदैव समान प्रतिबिंब भी हों?

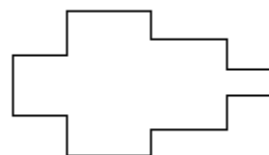

Ques.8 tell whether the dotted line in each shape represents 'line of symmetry'.
क्या हर चित्र में दी हुई कटवा रेखा सममिति रेखा है?





Ques.9 Draw a line of symmetry in each shape.

हर चित्र में कटवा रेखा का प्रयोग करके सममिति रेखा बनाओ।



Ques.10 Draw the second half of each symmetrical shape.

हर चित्र में सममिति रेखा दी गई है इसका दूसरा भाग बना कर इसे पूरा करो।





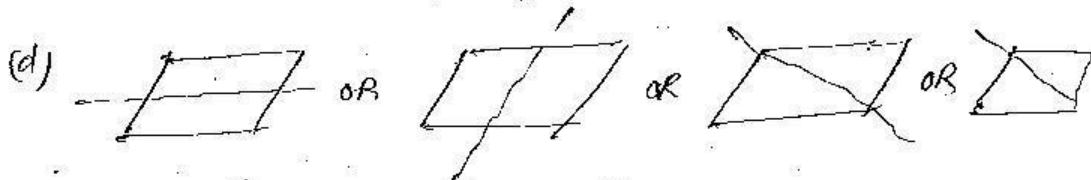
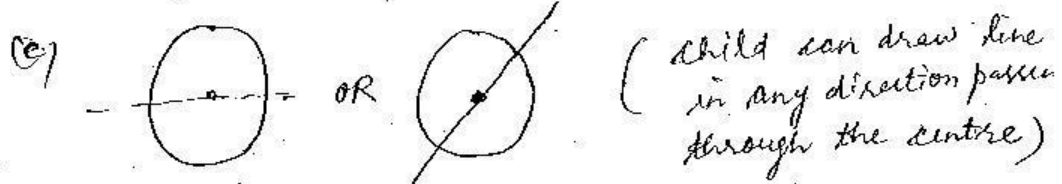
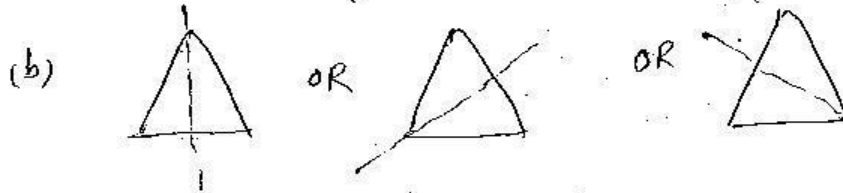
CHAPTER # 1
WHERE TO LOOK FROM

Class III
(Worksheet)

ANSWER KEY

1. b

2. c



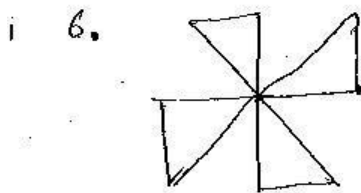
4. (a) A

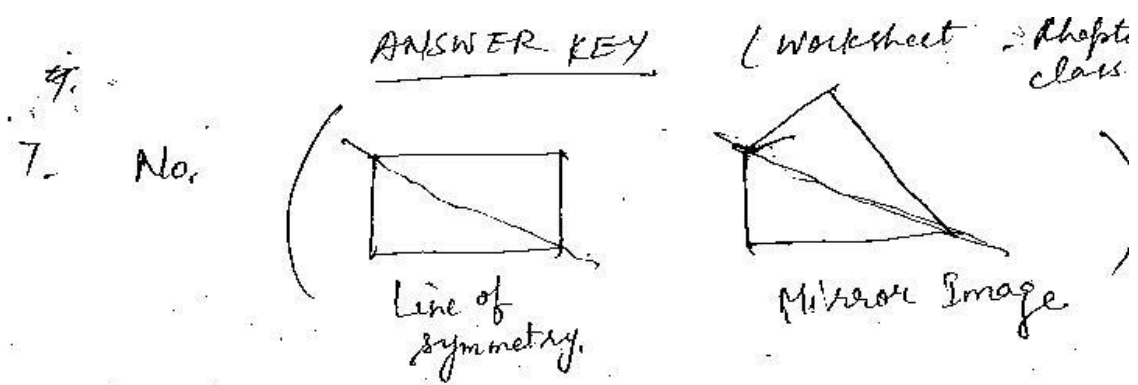
(b) H

(c) X

(d) D

5. c





- 8.
- (a) Yes
- (b) Yes
- (c) Yes
- (d) No

