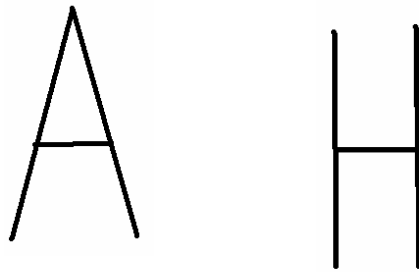


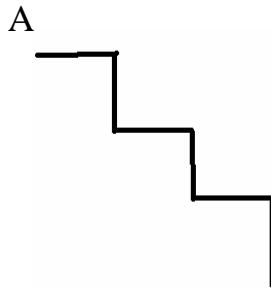
CHAPTER 11 **LINES & LINES**

Ques.1



Which figure has standing lines?
कौन से अक्षर में खड़ी लाईनो का प्रयोग किया गया है?

Ques.2



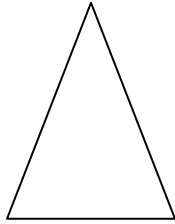
Which line will come next in the given patterns if we started from point A?
यदि हम A बिन्दु से शुरू करें तो आगे कौन सी रेखा आयेगी?

Ques.3 Draw a hut using standing and slanting lines.
टेढ़ी तथा खड़ी रेखाओं का प्रयोग करके एक झोपड़ी बनाओ।

Ques.4 Write all those English alphabets which have curved lines.
अंग्रेजी वर्णमाला के वे सभी अक्षर लिखो जिनमें मुड़ी रेखाओं का प्रयोग होता है।

Ques.5 Use matchstick and make the digit 32.
माचिस की तीलियों का उपयोग करके ३२ अंक बनाओ।

Ques.6 Which figure has more lines?
किस आकृति में रेखाएँ ज्यादा हैं?

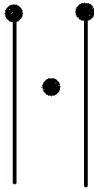


A

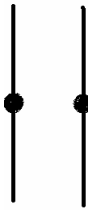


B

Ques.7



A



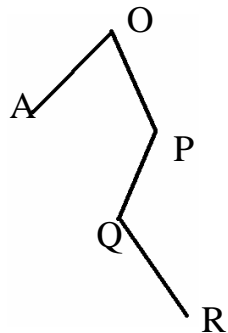
B



C

Join the point and make alphabets of English.
बिन्दु मिलाओ और अंग्रेजी वर्णमाला के अक्षर बनाओ।

Ques.8

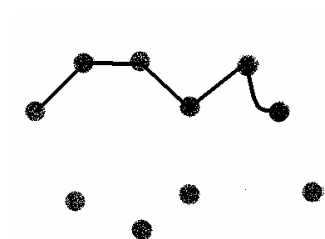


A. AO is _____ line.

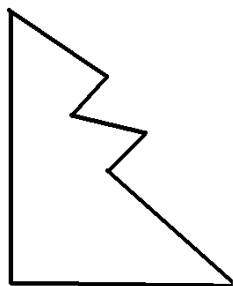
AO रेखा एक _____ रेखा है।

B. OP is _____ line.
Op रेखा एक _____ रेखा है।

Ques.9 Complete the fish and colour it.
मछली को पूरा करो तथा रंग भरो।



Ques.10 Count lines and write.
रेखाँए गिनो तथा लिखो।



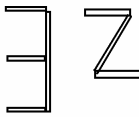
ANSWERS

Ans.1 H

Ans.2 Sleeping

Ans.3 Do it yourself

Ans.4 B C D G J O P Q R S U

Ans.5 

Ans.6 B

Ans.7

a) M

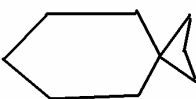
b) H

c) Z

Ans.8

a) Slanting

b) Standing

Ans.9 

Ans.10 7