


CHAPTER 7

MUGS & JUGS

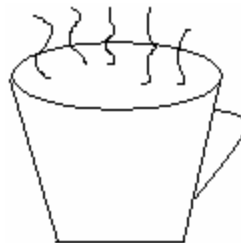
Ques.1 if cost of one small glass of orange juice is Rs 8. What is the cost of 5 small glasses of orange juice?

एक छोटे गिलास सन्तरे के रस का मूल्य ८ रुपये है, सन्तरें के रस के ५ छोटे गिलासों का मूल्य क्या होगा?



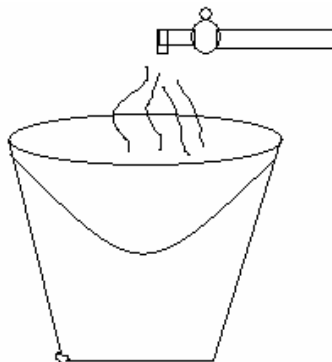
Ques.2 A family has 5 members. Each member drinks 3 cups of tea everyday. How many cups of tea are drinks everyday that family.

किसी परिवार में ५ सदस्य हैं प्रत्येक व्यक्ति दिन में ३ कप चाय पीता है उस परिवार के सदस्यों द्वारा प्रतिदिन कितनी चाय पी जाती है?



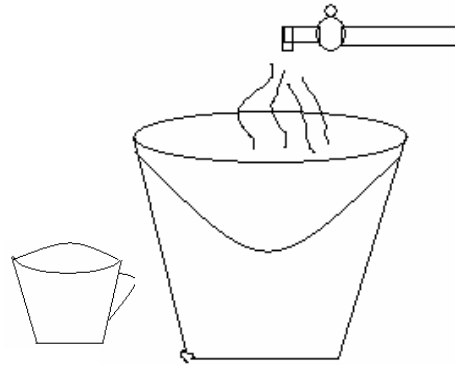
Ques.3 A tap fills one bucket in 5 min. How much time is required to fill 7 buckets?

एक नल ५ मिनट में एक बाल्टी भरता है उसे ७ बाल्टी भरने के लिए कितना समय चाहिए?



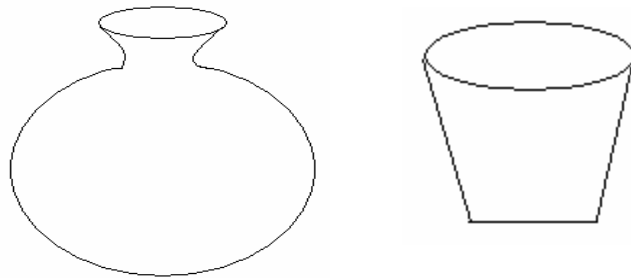
Ques.4 Ramesh take bath twice a day he uses one bucket for each bath. If 10 mugs fill a bucket. How many mug of water he uses for bath every day?

रमेश दिन मे दो बार नहाता है एक बार नहाने मे वह एक बाल्टी इस्तमाल करता है यदि १० मग एक बाल्टी को भरें तो वह प्रतिदिन कितने मग नहाने में इस्तमाल करता है?



Ques.5 20 glasses fill a pitcher. How many glasses fill 3 pitchers?

किसी मटके को भरने में २० गिलास लगते हैं इस तरह के ३ मटके भरने में कितने गिलास पानी चाहिए?



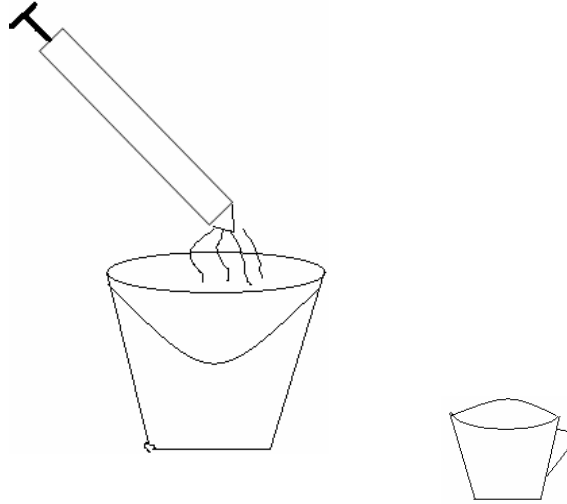
Ques.6 A pot contains 20 spoons of sugar. 2 spoons of sugar is used to prepare a glass of lemon drink. How many glasses of lemon drink can be prepared with the pot of sugar?

एक पात्र मे २० चम्मच चीनी आती है यदि एक गिलास नीबू पानी बनाने के लिए २ चम्मच चीनी चाहिए हो तो उस पात्र की चीनी से कितने गिलास नीबू पानी बनेगा?



Ques.7 15 mug of water can fill a bucket 5 pichkaries (water gun) can be filled by one bucket. How many mugs of water is required for 1 pichkari?

एक बाल्टी को भरने में १५ मग पानी चाहिए। एक बाल्टी में से ५ पिचकारियाँ भरी जा सकती हैं। एक पिचकारी को भरने के लिए कितने मग पानी चाहिए?



Ques.8 One jug of water fills 3 water bottle fills 4 glasses. How many glass of water contain by a jug?

एक जग ३ पानी की बोतलों को भर सकता है। एक पानी की बोतल से ४ गिलास भरे जा सकते हैं। कितने गिलास पानी एक जग में हो सकता है?



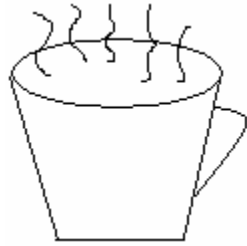
Ques.9 A can contain 15 liters of milk. If 7 liters poured in jug. How much milk is remains in the can?

एक दूध के डब्बे में १५ लीटर दूध है। इसमें से ७ लीटर दूध एक जग में डाल दिया तो अब डब्बे में कितना दूध बचा?



Ques.10 Cost of one cup of tea is Rs. 5. What the cost of 9 cups of tea?

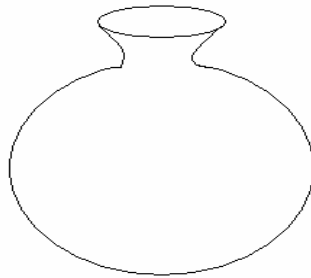
यदि एक कप का मूल्य ५ रुपये है तो ९ कप चाय का मूल्य क्या होगा?



Ques.11 3 pots of water in used by a housewife everyday in her kitchen.

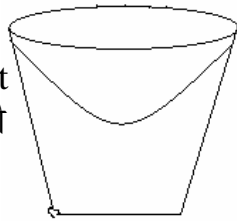
How many pots are used in a week?

एक गृहणी प्रतिदिन रसोई में ३ मटके पानी इस्तेमाल करती है वह सप्ताह में कितने मटके इस्तेमाल करेगी?



Ques.12

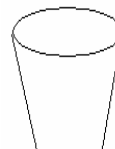
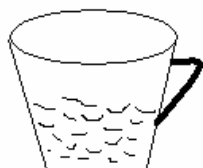
1. 1 bucket = 18 mugs
एक बाल्टी = १८ मग



2. 3 bucket = mugs
तीन बाल्टी = मग

Ques.13

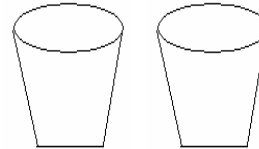
1. 1 jug = 4 glasses
एक जग = ४ गिलास



2. 3 jug = glasses
३ जग = गिलास

Ques.14

1. 1 boy = 2 glasses
एक लडका = २ गिलास



2. 3 boys ___ glasses
दो लडके ___ गिलास

Ques.15

1. 1 jug 5 glasses
एक जग ५ गिलास



2. 5 jugs ___ glasses
पाँच जग ___ गिलास

ANSWERS

Ans.1	Rs. 40
Ans.2	15 Cups
Ans.3	35 Minutes
Ans.4	20 Mugs
Ans.5	60 Glasses
Ans.6	10 Glasses
Ans.7	3 Mugs
Ans.8	12 Glasses
Ans.9	8 Liters
Ans.10	Rs. 45
Ans.11	21 Pots
Ans.12	54 Mugs
Ans.13	12 Glasses
Ans.14	6 Glasses
Ans.15	25 Glasses