

CHAPTER 6

FOOTPRINTS

Ques.1 A rectangle is formed by using _____ lines.
एक आयत _____ रेखाओं से बनता है।


Ques.2 A square is formed by using _____ lines.
एक आयत _____ रेखाओं से बनता है।

Ques.3 In a circle there are _____ corner.
एक वृत्त में _____ कोने होते हैं।

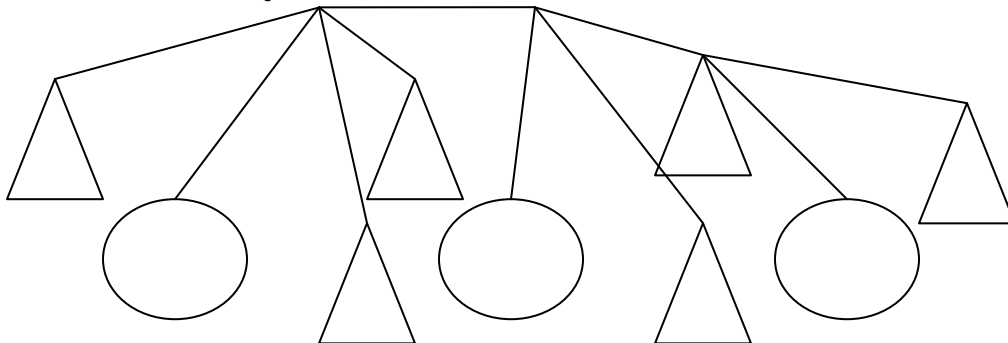
Ques.4 In a rectangle _____ sides are equal.
एक वृत्त में _____ कोने होते हैं।

Ques.5 In a square, all sides are _____.
एक वर्ग की _____ भुजाएँ बराबर होती हैं।

Ques.6 Draw square and rectangle using dots.
बिन्दुओं को इस्तमाल करके वर्ग और आयत बनाओ।



Ques.7 Count the number of circle in the given pattern.
दिये गए पैटर्न में वृत्तों की संख्या गिनो।

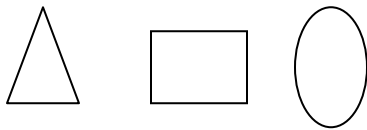


Ques.8 Which shape is formed by using three matchsticks?
तीन माचिस की तीलियों से कौन सी आकृति बनती है?

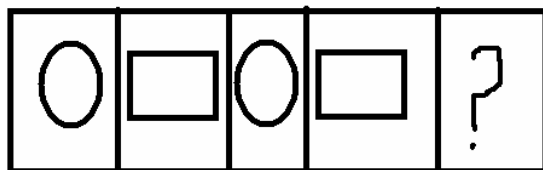
Ques.9 How many shapes are used in the given figure.
दिखाए गए चित्र में कितनी आकृतियाँ इस्तमाल हुई है?



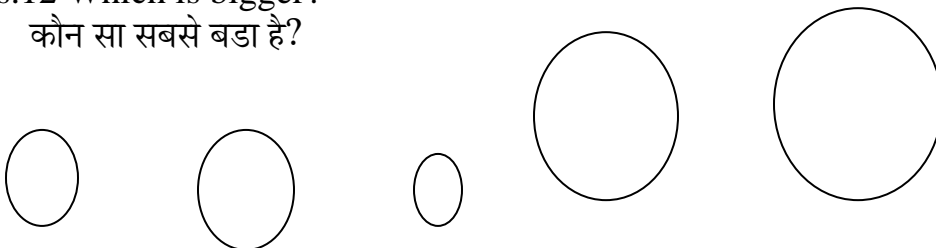
Ques.10 Which figure has 4 edges?
कौन सी आकृति की चार भुजाएँ हैं?



Ques.11 Look at the pattern and complete the boxes.
पैटर्न को पूरा करो।



Ques.12 Which is bigger?
कौन सा सबसे बड़ा है?



A

B

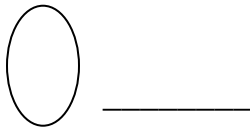

C

D

E

Ques.13 Count and write?

गिनो और लिखो।

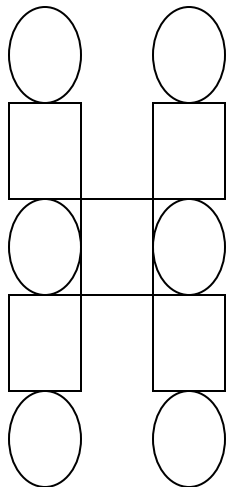


Ques.14 How many lines a circle have?

एक वृत्त की कितनी रेखाएँ होती है?

Ques.15 Colour the squares in the figure?

चित्र में वर्ग में रंग भरो:-



ANSWERS

Ans.1 4

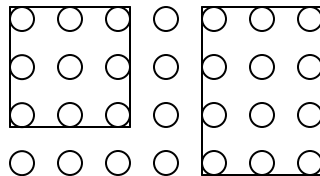
Ans.2 Four

Ans.3 No or zero

Ans.4 Opposite sides

Ans.5 Equal

Ans.6



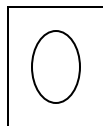
Ans.7 Four circles

Ans.8 Triangle

Ans.9 Two

Ans.10 B

Ans.11



Ans.12 E

Ans.13 Four triangles

Three circles

Ans.14 Zero

Ans.15

