

## CHAPTER 2

### COUNTING IN GROUP

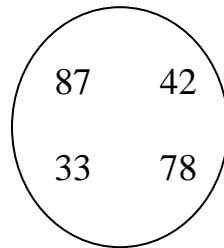
Ques.1 Count the leaves of given plant.

दिए गए पौधे की पत्तियों को गिनो ।



Ques.2 Arrange the following number in ascending order.

नीचे दिए गई संख्याओं को बढ़ते हुए क्रम में लिखो ।



\_\_\_\_\_

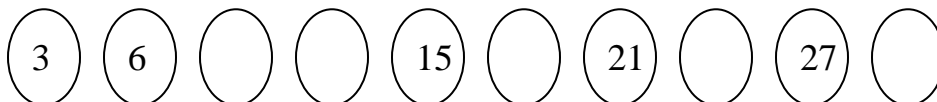
Ques.3 Complete the series

दिए गए क्रम को पूरा करो ।

101, 105, 110, 115, \_\_\_\_\_, \_\_\_\_\_.

Ques.4 Count by 3's and complete the pattern .

3 से गिनते हुए, नीचे दिए क्रम को पूरा करो ।



Ques.5 Double of 6 is.

६ का दुगुना है ।

i) 14

ii) 13

iii) 12

Ques.6 Write expanded form of

प्र० विस्तारित रूप में लिखो ।

$5065 = \underline{\hspace{1cm}} + \underline{\hspace{1cm}} + \underline{\hspace{1cm}}.$

Ques.7 20 flowers are required to make a garland. How many flowers are required for making 10 garlands?

एक माला को बनाने के लिए २० फूलों की आवश्यकता होती है । १० माला बनाने के लिए कितने फूलों की आवश्यकता होगी ?

Ques.8 The numeral for two thousand three is

दो हजार तीन की अंक संख्या है ।

1) 2030    2) 2003    3) 2013

Ques.9 How many legs are there in 2 cows?

२ गायों के पैरों की संख्या कितनी होगी ?

Ques.10 Group the numbers correctly

दी गई संख्याओं को सही समूह में लिखो।

18, 15, 77, 21  
19, 25, 22  
78, 15, 11, 80, 82, 68

Even

Odd

Ques.11 Meena has 32 books and 44 colours. How many things does she have in all?

प्र० मीना के पास ३२ पुस्तकें और ४४ रंग हैं बताओ, मीना के पास कुल कितनी चीजें हैं।

Ques.12 What comes between

बीच में क्या आएगा।

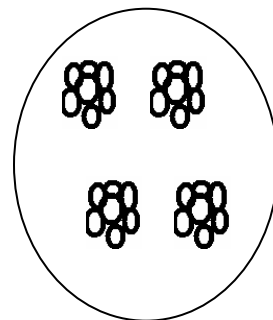
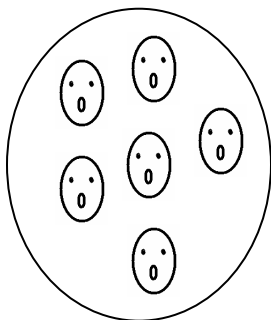

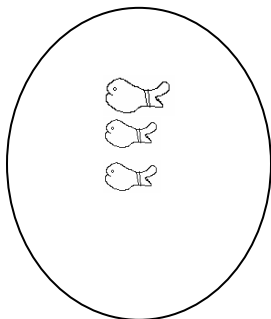
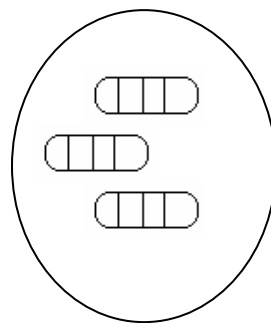

18 \_\_\_\_\_ 20

Ques.13  $100 - 80 =$

$१०० - ८० =$

Ques.14 Draw lines to match the correct group.

प्र० सही समूहों को लाइनें खींचते हुए मिलान कीजिए।



Ques.15 Answer the following.

निम्न के उत्तर दीजिए।

1)  $9 + 9 + 9 + 9 =$   
 $९ + ९ + ९ + ९ =$

2)  $6 + 6 + 6 =$   
 $६ + ६ + ६ =$

3)  $7 + 7 =$   
 $७ + ७ =$

**ANSWERS****(उत्तर माला)**

- Ans.1 14  
१४
- Ans.2 33, 42, 78, 87  
३३, ४२, ७८, ८७
- Ans.3 120, 125  
१२०, १२५
- Ans.4 9, 12, 18, 24, 30  
९, १२, १८, २४, ३०
- Ans.5 iii) 12  
iii) १२
- Ans.6  $5000 + 60 + 5$   
 $५००० + ६० + ५$
- Ans.7 200 flowers  
२०० (फूल)
- Ans.8 2) 2003  
२) २००३
- Ans.9 8 legs  
८ (पैर)
- Ans.10      Even (सम)      Odd (विषम)
- 18, 22

78, 80, 82

65

15, 77

21, 19, 25

15, 11
- Ans.11 76  
७६
- Ans.12 19  
१९
- Ans.13 20  
२०

Ans.14      A      C

              B      A

              C      B

Ans.15

i)      36

         ३६

ii)      18

         १८

iii)     14

         १४