


CHAPTER 8

Ques.1 Which bag contains more marbles...

किस बैग में ज्यादा मार्बल है?



Ques.2 Fill the missing number in the box.

अज्ञात संख्या खाले स्थान में भरो:-

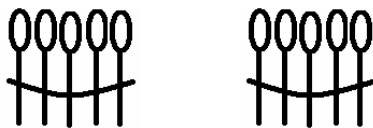
22

24

28

Ques.3 Count the sticks of two bundles.

दो बंडलो मे डंडे गिनो।



Ques.4 Which number comes in between?

बीच में क्या संख्या आएगी।

41

43

Ques.5 What comes after?

बाद मे क्या आएगा।

33



Ques.6 What comes before?

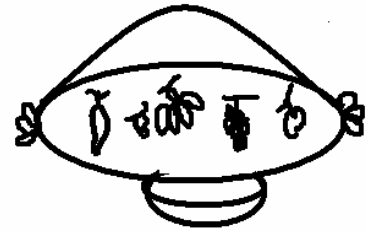
पहले क्या आएगा?



29

Ques.7 How many fruits are in the basket?

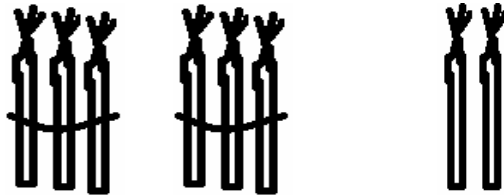
टोकरी में कितने फल है?



Ques.8 2 tens + 6 ones =

२ दहाई + ६ इकाई =

Ques.9



Tens



दहाई

Ones




इकाई

= 22

= २२

Ques.10 Draw the bundles of tens and ones
दहाई और इकाई के बंडल बनाइए।



Tens	Ones	
1	5	15

ANSWERS

1. (a)
अ

2. 23, 25, 29
२३, २५, २९

3. 6, 6
६, ६

4. 42
४२

5. 34
३४

6. 28
२८

7. 5
५

8. 26
२६

9. 2, 2
२, २

10.

