

CHAPTER 6


TIME

Ques.1 Mohan goes to school by cycle and Sohan on foot .Who will reach the school first? _____

मोहन विद्यालय साईकिल से जाता है और सोहन पैदल विद्यालय जाता है पहले कौन पहुँचेगा।

Ques.2 Tick the vessel which will get filled by water first with same pressure of water?

उस बर्तन पर सही का निशान लगाओ जो पानी से पहले भरेगा।



Ques.3 Cross out the incorrect one:-

जो गलत है उस पर काटा लगाओ।

- | | | |
|------------------------------------|---|-------------------------------------|
| 1) Eat breakfast
सुबह का नाश्ता | - | 15 min/15 hours
१५ मिनट/१५ घंटे। |
| 2) Sleep at night
रात को सोना | - | 8 min/8 hours
८ मिनट/८ घंटे। |

Ques.4 How long does it take? Tick the correct one.

इसमें कितना समय लगता है, सही पर निशान लगाओ।

- | | | |
|--|---|----------------------------|
| 1) For a tooth to grow
एक दाँत के बढ़ने में | - | days / months
दिन/महीने |
|--|---|----------------------------|

2) For summer to change to winter - days / months
एक दाँत के बढ़ने में दिन/महीने

Ques.5 Which day comes after Sunday? _____
रविवार के बाद कौन सा दिन आता है?

Ques.6 Which day comes before Wednesday _____
बुधवार से पहले कौन सा दिन आता है?

Ques.7 Umbrella and raincoat are used in _____ season,
छाता और रेनकोट _____ मौसम में प्रयोग करते हैं।

Ques.8 Arrange the activities given below in the proper sequence.
निम्न गतिविधियों को क्रमानुसार लगाएँ।

1) Bathing 2) Dinner 3) Studying 4) go to school
नहाना, रात को खाना, पढ़ना, विद्यालय जाना

Ques.9 Number the activities in sequence –
गतिविधियों को सही क्रम से लगायें।

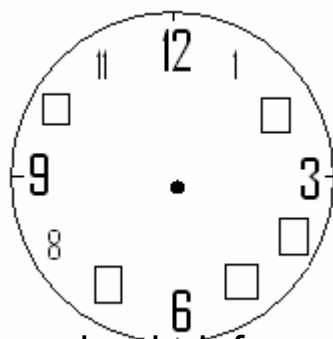
1. Eat the chapatti
रोटी खाना

2. Making dough
आटा गूँदना

3. Making roll
पेड लगाना

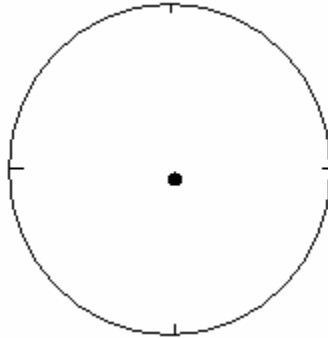
3. Making chapatti
रोटी बनाना

Ques.10 Write the missing numbers of a clock.
घड़ी में छूटे हुए अंको को लिखो।



Ques.11 Write all the numbers on the clock.

घड़ी पर सभी अंको को दर्शाओ।



Ques.12 Match the following:-

जोड़े मिलाओ

1. Blink the eyes

पलक झपकना

a) Morning

सुबह

2 Brushing the teeth

दाँत साफ करना

b) Hours

घंटे

3. Sleeping at night

रात को सोना

c) Sconds

सैंकेड

Ques.13 When does the sun set? Morning/noon/evening. _____

सूर्य कब अस्त होता है? सुबह / दोपहर / शाम।

Ques.14 Which game require more time to play? A ludo or cricket.

किस खेल को खेलने में ज्यादा समय लगेगा? लूडो या क्रिकेट।

Ques.15 We wear woolen clothes in _____ season.

हम ऊनी वस्त्र _____ मौसम में पहनते हैं।

ANSWERS

Ans.1 Mohan
मोहन

Ans.2 A
अ

Ans.3 (1) 15 Hours
१५ घंटे
(2) 8 Mins
८ मिनट

Ans.4 (1) Months
महीने
(2) Months
महीने

Ans.5 Monday
सोमवार

Ans.6 Tuesday
मंगलवार

Ans.7 Rainy
वर्षा

Ans.8

(1) 1	(2) 4
१	४
(3) 3	(4) 2
३	२

Ans.9

(1) 2	(2) 3
२	३
(3) 4	(4) 1
४	१

Ans.10 2, 4, 5, 7, 10.
 २, ४, ५, ७, १०.

Ans.11 Child will write numbers from 1 to 12 in proper sequence.

Ans.12

(1) C

(2) A

(3) b

Ans.13 Evening

शाम

Ans.14 Ludo

लूडो

Ans.15 Winter

सर्दी