

# CLASS I

## CHAPTER 5

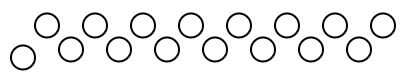
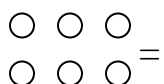
Ques.1 Write the missing number.

छूटी हुई संख्याये लिखिए:-

10		12			15
----	--	----	--	--	----

Ques.2 Fill in the blanks.

रिक्त स्थान भरें।


 ---- 
 
 = \_\_\_\_\_


Ques.3 Make a group of 10 and write number.

१० का समूह बनाईये और संख्या लिखे:-



Ques.4 Make a group of three and write number of group.

तीन तीन के समूह बनाओ।



Ques.5 Fill in the blanks.

रिक्त स्थान भरो।

$$16 - 4 = \boxed{\phantom{00}}$$

Ques.6 Fill in the blanks.

रिक्त स्थान भरो।

$$10 + 7 = \boxed{\phantom{00}}$$

Ques.7 Fill in the blanks.

रिक्त स्थान भरो।

$$14 - \boxed{\phantom{00}} = 8$$

Ques.8 What number remain after reducing the group of five objects.

पाँच का समूह निकालने पर क्या शेष बचेगा।




Ques.9 Make a group of two and write number of group.

दो दो के जोड़े बनाओ।




Ques.10 Complete the table.

तालिका पूरा करें।



Ques.11 Tick ( ✓ ) the group with less number of objects.

कम वस्तुओं के समूह पर गोला लगाओ।



Ques.12 Solve the sum:

हल करें।

$$12 + 3 - 5 = \underline{\quad}$$

Ques.13 Write the numbers in decreasing order.

घटते क्रम में लिखो।

15, 19, 10, 13, 18, 17.

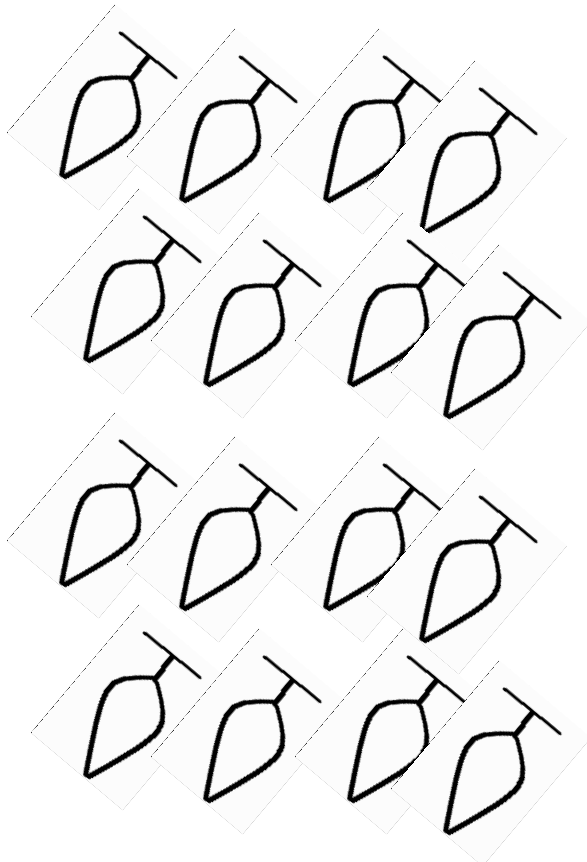
Ques.14 Write the numbers in increasing order.

बढ़ते क्रम में लिखो।

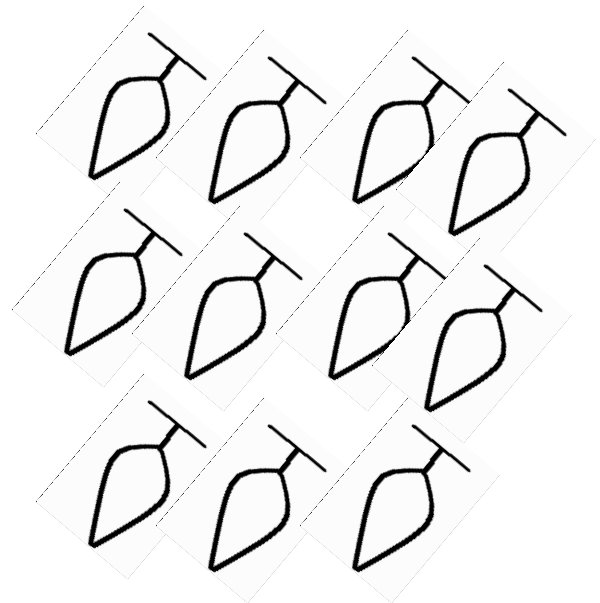
14, 18, 13, 19, 10, 16.

Ques.15 Tick the group with more object

अधिक वस्तुओं के समूह पर सही का निशान लगाओ।



A ☐

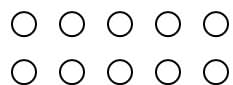


B ☐

**ANSWERS**

Ans.1 11, 13, 14  
 ११, १३, १४

Ans.2



Ans.3  $10 + 4 = 14$   
 १० + ४ = १४

Ans.4 3  
 ३

Ans.5 12  
 १२

Ans.6 17  
 १७

Ans.7 6  
 ६

Ans.8 11  
 ११

Ans.9 3  
 ३

Ans.10 

Ans.11 B

Ans.12 10  
 १०

Ans.13 19, 18, 17, 15, 13, 10.  
 १९, १८, १७, १५, १३, १०

Ans.14 10, 13, 14, 16, 18, 19.  
 १०, १३, १४, १६, १८, १९

Ans.15 A