


CHAPTER 11

Ques.1 Circle the correct number.

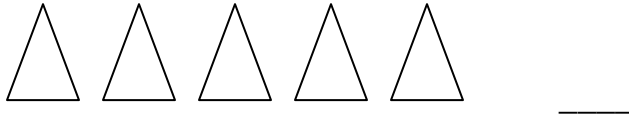
सही अंक पर घेरा लगाओ।



7 3 8

Ques.2 count and write.

गिनो और लिखो।



Ques.3 18 = tens + ones

Ques.4 Write the missing number in the tree

गिनो और लिखो।



Ques.5 How many apples are there in the tree?

दिए गए वृक्ष में कितने सेब हैं।



Ques.6 Circle the figure number - 11 13
बड़े अंक पर घेरा लगाओ।

Ques.7 Circle the smaller number - 20 10
छोटे अंक पर घेरा लगाओ।

Ques.8 Write the missing numbers
रिक्त स्थान भरें।

10, ____, 12, ____, ____ 15, 16, ____, 18

Ques.9 $4 + 5 =$

Ques.10 $7 - 4 =$

Ques.11 $IIIII + III =$

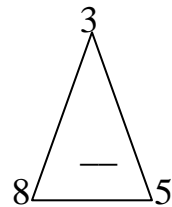
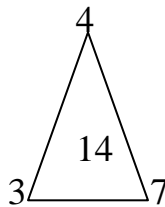
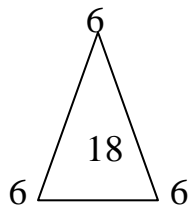
Ques.12 10 tens + 8 ones =

१० दहाई + ८ईकाई =

Ques.13 Put the sign 8 ____ 11
 निशान लगाओ। ८ ____ ११

Ques.14 $12 - 0 =$

Ques.15 Fill in the blank:
 निशान लगाओ।



ANSWERS

- Ans.1 3
३
- Ans.2 5
५
- Ans.3 1 tens 8 ones
१ ८
- Ans.4 12
१२
- Ans.5 5
५
- Ans.6 13
१३
- Ans.7 10
१०
- Ans.8 11, 13, 14, 17
११, १३, १४, १७
- Ans.9 9
९
- Ans.10 3
३
- Ans.11 8
८
- Ans.12 18
१८
- Ans.13 <
<
- Ans.14 12
१२
- Ans.15 16
१६